
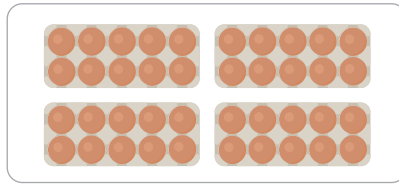



1

Schrijf de som.



..... × =

..... × =

..... × =

2

a Vul in.

4 × 10 =

8 × 5 =

4 × 2 =

10 × 10 =

6 × 10 =

3 × 10 =

8 × 10 =

10 × 5 =

b Kruis aan. De tafels van 2, 5 en 10 kan ik:

heel goed

goed


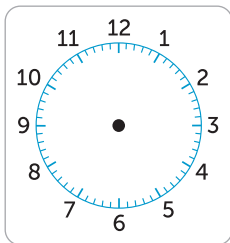
een beetje

bijna

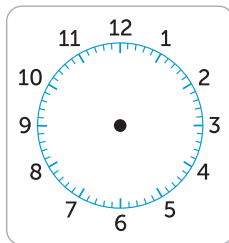
3

a Teken de wijzers en kleur de digitale tijd in.

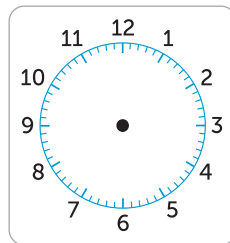
's middags
kwart voor 3



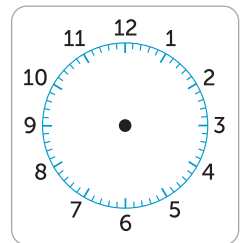
's ochtends
kwart over 8



's avonds
kwart over 9



's middags
kwart voor 5



b Kruis aan. Klokkijken met kwartieren kan ik:

heel goed

goed

een beetje

bijna

4

Vul in.

voor 10 koekjes:	voor 20 koekjes:
2 kopjes melk kopjes melk
4 kopjes meel kopjes meel
1 ei eieren
3 eetlepels water eetlepels water

voor 5 smoothies:	voor 10 smoothies:
3 appels appels
10 aardbeien aardbeien
5 bananen bananen
8 eetlepels yoghurt eetlepels yoghurt